

## Constable (GD) in CAPFs, NIA, SSF and Rifleman (GD) in Assam

Roll No  
Regis  
Name  
Exam  
Exam  
Exam

### Section : General Section

Q.1 निम्नलिखित समीकरण को सही करने के लिए विकल्पों में दिए गए किन दो चिहनों को परस्पर बदला जाना चाहिए?  
 $14 + 16 \times 14 - 7 + 3 = 43$

- Ans
- 1. + और -
  - 2.  $\times$  और  $\div$
  - 3. - और  $\times$
  - 4. - और  $\div$

Question ID : 9895804685  
Chosen Option : 2

Q.2 उस विकल्प का चयन करें जो सही रूप में रिक्त स्थान को भर और श्रृंखला को पूरा करें।

MHW, KJU, ILS, GNQ, \_\_\_?

- Ans
- 1. EOP
  - 2. EPQ
  - 3. EPO
  - 4. FPO

Question ID : 9895804667  
Chosen Option : 2

Q.3 एक निश्चित कूट भाषा में, TOUCH को 68 के रूप में लिखा जाता है। इसी कूट ERROR को कैसे लिखा जाएगा?

- Ans
- 1. 61
  - 2. 59
  - 3. 55
  - 4. 54

Question ID : 9895804674  
Chosen Option : 1

Q.4

उस विकल्प का चयन करें जो दिए गए पैटर्न में प्रश्न चिह्न (?) के स्थान पर आएगा।

17	15	13
7	6	5
66	51	?

- Ans
- 1. 19
  - 2. 17
  - 3. 38
  - 4. 45

Question ID : 9895804684  
Chosen Option : 3

Q.5 उस विकल्प का चयन करें जो तीसरे पद से उसी प्रकार से संबंधित है जिस प्रकार से दूसरा पद पहले पद से संबंधित है।

मेमना : उछलना :: चूहा :

- Ans
- 1. झूलना
  - 2. इठलाना / अकड़ना
  - 3. दौड़ना
  - 4. छलांग

Question ID : 9895804671  
Chosen Option : 3

Q.6 विकल्पों में से उस आकृति का चयन करें जो निम्नी गई श्रृंखला में अगले स्थान पर आएगी।



- Ans
- 1.
  - 2.
  - 3.



Q.1 वह विकल्प चुनें जो तीसरे पद से उसी प्रकार से संबंधित है जिस प्रकार से दूसरा पद पहले पद से संबंधित है।

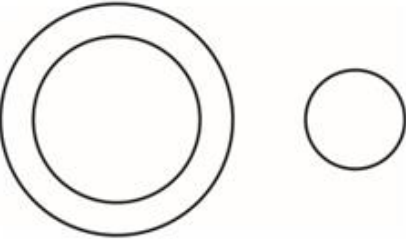
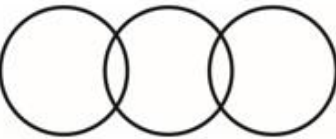

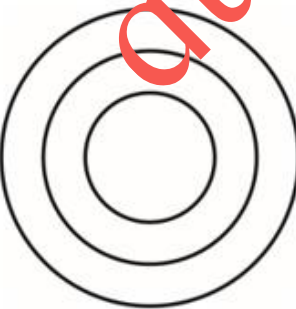
ईरान : रियाल :: इराक : ?

- Ans
- 1. युद्ध
  - 2. रियाल
  - 3. दिरहम
  - 4. दीनार

Q.1 निम्नलिखित में से कौन सा वेन रेखाचित्र दिए गए वर्ग के बीच के संबंध को सही दर्शाता है?

ऑस्ट्रिया, डेनमार्क, देश

Ans

- 1. 
- 2. 
- 3. 
- 4. 

Q.1 उस विकल्प का चयन करें जो सही रूप में रिक्त स्थान को भरे और श्रृंखला को पूरा करें।

7, 8, 16, 43, ?

Ans



Q.1 विकल्पों में से उस आकृति का चयन करें जिसमें 'X' से चिह्नित आकृति समाहित है।



X

Ans

✗ 1.



✗ 2.



✗ 3.



✓ 4.

Question ID : 9895804688  
Chosen Option : 3

Q.1 उस विकल्प का चयन करें जो दर्पण के दायीं ओर रखे जाने पर दिए गए शब्द की दर्पण छवि से सर्वाधिक मेल खाता है।

8

RUPTURE

Ans

✗ 1.



✗ 2.



✗ 3.



✓ 4.

Question ID : 9895804689  
Chosen Option : 4

Q.1 पैटर्न के साथ एक वर्गाकार पारदर्शी कागज पत्रक दिया गया है। पारदर्शी कागज पत्रक के बिंदुकित रेखा पर मोड़े जाने पर पैटर्न कैसा दिखाई देगा?

9



Ans













Q.3  
3 सौर मंडल की खोज किसने की?

Ans  1. कोपरनिकस

2. वास्को द गामा

3. मर्फी

4. न्यूटन

Question ID : 9895802441

Chosen Option : 1

Q.3  
4 ब्रह्मो समाज की स्थापना किसकी सबसे बड़ी उपलब्धि थी?

Ans  1. स्वामी विवेकानंद

2. राजा राम मोहन रॉय

3. भीमराव अंबेडकर

4. अरविन्द घोष

Question ID : 9895802426

Chosen Option : 2

Q.3  
5 पुस्तक 'द पैराडॉक्सिकल प्राइम मिनिस्टर' \_\_\_\_\_ द्वारा लिखी गई है।

Ans  1. डॉ मनमोहन सिंह

2. शशि थरूर

3. अशोक गेहलोत

4. ज्योतिरादित्य सिंधिया

Question ID : 9895802443

Chosen Option : 1

Q.3  
6 निम्नलिखित में से कौन सा चुनाव आयोग का महत्वपूर्ण कर्तव्य नहीं है?

Ans  1. प्रत्यक्ष चुनाव।

2. चुनाव का सञ्चालन और नियंत्रण।

3. स्थानीय चुनाव न करना।

4. चुनाव का निरीक्षण।

Question ID : 9895802437

Chosen Option : 3

Q.3









Q.5  
0 रबी फसलों की बुवाई \_\_\_\_\_ में की जाती है।

- Ans
- 1. जनवरी-फरवरी
  - 2. अक्टूबर-नवंबर
  - 3. मई-जून
  - 4. अप्रैल-मई

Question ID : 9895802432  
Chosen Option : 2

Q.5  
1 एक राशि पर चौथे वर्ष का चक्रवृद्धि ब्याज ₹ 6000 है तथा पाँचवें वर्ष का चक्रवृद्धि ब्याज ₹ 6750 है (ब्याज का संयोजन वार्षिक किया गया है)। ब्याज दर क्या है?

- Ans
- 1. 15%
  - 2. 20%
  - 3. 12.5%
  - 4. 25%

Question ID : 9895804298  
Chosen Option : 2

Q.5  
2 A तथा C मिलकर एक कार्य को 120 दिन में पूरा कर सकते हैं, C तथा E मिलकर समान कार्य को 80 दिन में पूरा कर सकते हैं, A तथा E मिलकर समान कार्य को 160 दिन में पूरा कर सकते हैं। A, C तथा E मिलकर समान कार्य को कितने दिन में पूरा कर सकते हैं?

- Ans
- 1. 960/13 दिन
  - 2. 120/13 दिन
  - 3. 480/13 दिन
  - 4. 240/13 दिन

Question ID : 9895804299  
Chosen Option : 2

Q.5  
3 एक कमरे की लंबाई, चौड़ाई तथा ऊँचाई 16 मीटर, 12 मीटर तथा 15 मीटर है। उस कमरे में रखी जाने वाली सबसे बड़ी छड़ की लंबाई क्या होगी?

- Ans
- 1. 18 मीटर
  - 2. 24 मीटर
  - 3. 25 मीटर
  - 4. 20 मीटर

Question ID : 9895804304  
Chosen Option : 2

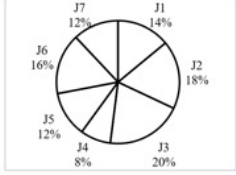




X 4. 30 : 35 : 49

Question ID : 9895804294  
Chosen Option : 1

Q.5 नीचे दिया गया पाई चार्ट कार बनाने की 7 विभिन्न प्रक्रियाओं J1, J2, J3, J4, J5, J6 तथा J7 में लगने वाले समय को कार बनने में लगने वाले कुल समय के प्रतिशत के रूप में दर्शाता है। एक कार बनने में कुल 1200 घंटे का समय लगता है।



J2 तथा J5 प्रक्रियाओं में कुल कितना समय लगेगा?

- Ans
- X 1. 240 घंटे
  - X 2. 396 घंटे
  - X 3. 312 घंटे
  - ✓ 4. 360 घंटे

Question ID : 9895804307  
Chosen Option : 2

Q.6 12 व्यक्ति एक कार्य के आधे को 9 दिन में पूरा कर सकते हैं। किन्तु व्यक्ति समान कार्य (संपूर्ण) को 6 दिन में पूरा कर सकते हैं?

- Ans
- X 1. 42
  - X 2. 45
  - ✓ 3. 36
  - X 4. 48

Question ID : 9895804300  
Chosen Option : 3

Q.6 एक दूकानदार 25% की छूट देने के पश्चात् 40% लाभ कमाता है। अंकित मूल्य, क्रय मूल्य से कितना प्रतिशत अधिक है?

- Ans
- X 1. 85%
  - X 2. 75%
  - X 3. 80%
  - ✓ 4. 86.67%

Question ID : 9895804292  
Chosen Option : 2

Q.6  
2

$[22\frac{3}{4} \div \frac{14}{3}]$  का  $(8 - \frac{1}{5} + 4 - 2 \div \frac{1}{2})$  का मान क्या है?

- Ans
- 1. 91/213
  - 2. 5/8
  - 3. 3/7
  - 4. 91/199

Question ID : 9895804286  
Chosen Option : 1

Q.6 यदि एक 12 वर्ष के लड़के को एक नए लड़के से बदलते हैं, तो 18 लड़कों की औसत आयु 1.5 वर्ष बढ़ जाती है। नए लड़के की आयु क्या है?

- Ans
- 1. 43 वर्ष
  - 2. 35 वर्ष
  - 3. 37.5 वर्ष
  - 4. 39 वर्ष

Question ID : 9895804287  
Chosen Option : 3

Q.6 यदि  $P : Q = 5 : 6$  है तथा  $R : Q = 25 : 9$  है, तो  $P : R$  का अनुपात क्या है?

- Ans
- 1. 10 : 13
  - 2. 3 : 10
  - 3. 10 : 3
  - 4. 13 : 10

Question ID : 9895804296  
Chosen Option : 3

Q.6 एक वस्तु का अंकित मूल्य उसके कय मूल्य से 60% अधिक है। यदि वस्तु को 20% के लाभ पर बेचा गया है, तो छूट प्रतिशत क्या होगा?

- Ans
- 1. 15%
  - 2. 37.5%
  - 3. 25%
  - 4. 17.5%

Question ID : 9895804289  
Chosen Option : 3

Q.6 एक लंबवृत्तीय शंकु का आयतन 1232 से.मी.<sup>3</sup> है। यदि शंकु की लंबाई 24 से.मी. है, तो इसके आधार की विज्या क्या होगी?

- Ans
- 1. 8 से.मी.



Q.7 रमेश 75 वस्तुएं ₹ 10800 कि खरीदता है तथा उनको 5 वस्तुओं के विक्रय मूल्य के बराबर हानि पर बेचता है एक वस्तु का विक्रय मूल्य क्या होगा?

- Ans
- 1. ₹ 135
  - 2. ₹ 132
  - 3. ₹ 144
  - 4. ₹ 156

Question ID : 9895804293  
Chosen Option : 3

Q.7 8 संख्याओं का औसत 44 है। यदि प्रत्येक संख्या में 'Y' जोड़ा जाता है, तो औसत 47 बन जाता है। 'Y' का मान क्या है?

- Ans
- 1. 21
  - 2. 24
  - 3. 8
  - 4. 3

Question ID : 9895804288  
Chosen Option : 3

Q.7 नीचे दिया गया डेटा उन व्यक्तियों की संख्या को दर्शाता है जिन्होंने एक निश्चित राशि की बचत की है।

बचत (₹ में)	व्यक्तियों की संख्या
5	1
15	3
20	4
25	2
30	1
35	1
40	2

प्रति व्यक्ति बचत का माध्य क्या है?

- Ans
- 1. ₹ 23.21
  - 2. ₹ 25.54
  - 3. ₹ 28.89

X 4. ₹ 21.57

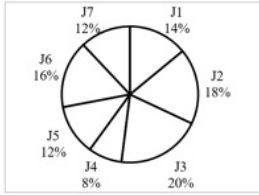
Question ID : 9895804290  
Chosen Option : 1

Q.7 3 एक लंबवृत्तीय शंकु का आयतन  $2464 \text{ से.मी.}^3$  है। यदि शंकु की लंबाई 12 से.मी. है, तो इसके आधार की त्रिज्या क्या होगी?

- Ans
- X 1. 8 से.मी.
  - X 2. 10 से.मी.
  - X 3. 12 से.मी.
  - ✓ 4. 14 से.मी.

Question ID : 9895804303  
Chosen Option : 2

Q.7 4 नीचे दिया गया पाई चार्ट कार बनाने की 7 विभिन्न प्रक्रियाओं J1, J2, J3, J4, J5, J6 तथा J7 में लगने वाले समय को कार बनने में लगने वाले कुल समय के प्रतिशत के रूप में दर्शाता है। एक कार बनने में कुल 1200 घंटे का समय लगता है।



J1 तथा J4 प्रक्रियाओं में लगने वाले समय के बीच का अंतर क्या है?

- Ans
- X 1. 84 घंटे
  - ✓ 2. 72 घंटे
  - X 3. 96 घंटे
  - X 4. 60 घंटे

Question ID : 9895804308  
Chosen Option : 2

Q.7 5 मोहित एक स्थान A से चलना आरंभ करता है तथा स्थान B पर 12 घंटे में पहुँचता है। वह कुल दूरी का  $\frac{1}{5}$  वाँ भाग 6 कि.मी./घंटा की गति से तय करता है तथा शेष दूरी 8 कि.मी./घंटा की गति से तय करता है। A तथा B के मध्य दूरी क्या है?

- Ans
- ✓ 1. 90 कि.मी.
  - X 2. 95 कि.मी.
  - X 3. 60 कि.मी.

4. 75 कि.मी.

Question ID : 9895804302  
Chosen Option : 2

Section : English Language

Q.1 Select the antonym of the given word.

SAVAGE

- Ans  1. Tribal  
 2. Civilized  
 3. Stern  
 4. Rustic

Question ID : 9895804172  
Chosen Option : --

Q.2 From the given options, identify the segment in the sentence which contains the grammatical error.

A woman's real character will always be more visible in his household than anywhere else.

- Ans  1. will always be  
 2. in his household  
 3. than anywhere else  
 4. real character

Question ID : 9895804157  
Chosen Option : --

Q.3 Select the synonym of the given word.

FANATIC

- Ans  1. Enthusiast  
 2. Great  
 3. Famed  
 4. Fantastic

Question ID : 9895804174  
Chosen Option : --

Q.4 Select the option that means the same as the given idiom.

To be under the weather

- Ans  1. To feel very hot  
 2. To get very wet  
 3. To not feel well



4. To feel very cold

Question ID : 9895804176  
Chosen Option : --

Q.5 Select the most appropriate option to substitute the underlined segment in the given sentence. If there is no need to substitute it, select No Improvement.

A city court ordered the immediate release of a professor described his arrest as illegal.

- Ans
- 1. No improvement
  - 2. describing his arrest
  - 3. describing an arrest
  - 4. describing their arrest

Question ID : 9895804160  
Chosen Option : --

Q.6 Select the most appropriate option to substitute the underlined segment in the given sentence. If there is no need to substitute it, select No Improvement.

Australia recorded its hot month in January with sweltering conditions expected to persist through April.

- Ans
- 1. its more hotter month
  - 2. its hotter month
  - 3. its hottest month
  - 4. No improvement

Question ID : 9895804159  
Chosen Option : --

Q.7 Select the most appropriate word to fill in the blank.

This question will be discussed at the meeting \_\_\_\_\_.

- Ans
- 1. tomorrow
  - 2. yesterday
  - 3. last week
  - 4. last year

Question ID : 9895804165  
Chosen Option : --

Q.8 Select the word which means the same as the group of words given.

One who treats skin diseases

- Ans
- 1. Dermatologist
  - 2. Gynecologist
  - 3. Radiologist

✓ 4. Cardiologist

Question ID : 9895804179  
Chosen Option : --

Q.9 Select the most appropriate option to substitute the underlined segment in the given sentence. If there is no need to substitute it, select No Improvement.

As you make your way in the interior of Red Fort, lush green gardens greet you.

- Ans
- ✗ 1. into the interior of
  - ✗ 2. No improvement
  - ✗ 3. on the interior of
  - ✓ 4. along the interior of

Question ID : 9895804161  
Chosen Option : --

Q.1 Select the synonym of the given word

EVERLASTING

- Ans
- ✓ 1. Essential
  - ✗ 2. Equal
  - ✗ 3. Especial
  - ✗ 4. Eternal

Question ID : 9895804175  
Chosen Option : --

Q.1 Select the most appropriate word to fill in the blank.

The flight of birds \_\_\_\_\_ pretty sight to watch.

- Ans
- ✗ 1. is
  - ✓ 2. has
  - ✗ 3. have
  - ✗ 4. are

Question ID : 9895804163  
Chosen Option : --

Q.1 Select the option that means the same as the given idiom.

Like a cakewalk

- Ans
- ✗ 1. Not too easy
  - ✓ 2. Extremely easy
  - ✗ 3. Extremely difficult

4. Quite difficult

Question ID : 9895804177  
Chosen Option : --

Q.1  
3 Select the antonym of the given word.

COMPULSORY

- Ans  1. Important  
 2. Essential  
 3. Choice  
 4. Optional

Question ID : 9895804173  
Chosen Option : --

Q.1  
4 From the given options, identify the segment in the sentence which contains the grammatical error.

A great fortune in the hands of a fool are a great misfortune.

- Ans  1. A great fortune  
 2. of a fool  
 3. in the hands  
 4. are a great

Question ID : 9895804158  
Chosen Option : --

Q.1  
5 Select the correctly spelt word.

- Ans  1. Handkerchief  
 2. Hankerchief  
 3. Hanckerchief  
 4. Hangerchief

Question ID : 9895804180  
Chosen Option : --

Q.1  
6 From the given options, identify the segment in the sentence which contains the grammatical error.

On the eleventh hour, she retired from the contest, leaving the field open to her opponent.

- Ans  1. to her opponent  
 2. retired from  
 3. leaving the field  
 4. On the eleventh hour

Question ID : 9895804156  
Chosen Option : --

Q.1  
7 Select the most appropriate word to fill in the blank.

The telephone was \_\_\_\_\_ by Alexander Graham Bell.

- Ans
- 1. researched
  - 2. invented
  - 3. discovered
  - 4. found

Question ID : 9895804164  
Chosen Option : --

Q.1  
8 Select the correctly spelt word.

- Ans
- 1. Accommodate
  - 2. Akommodate
  - 3. Acommodate
  - 4. Accomodate

Question ID : 9895804181  
Chosen Option : --

Q.1  
9 Select the most appropriate word to fill in the blank.

Mother cuts vegetables \_\_\_\_\_ a knife.

- Ans
- 1. off
  - 2. with
  - 3. by
  - 4. from

Question ID : 9895804162  
Chosen Option : --

Q.2  
0 Select the word which means the same as the group of words given.

One who repairs leaking water pipes.

- Ans
- 1. Carpenter
  - 2. Mason
  - 3. Plumber
  - 4. Blacksmith

Question ID : 9895804178  
Chosen Option : --

Comprehension:

In the following passage some words have been deleted. Fill in the blanks with the help of the alternatives given.

I have just \_\_\_\_\_ (1) that it is your birthday on Saturday and so I send you my best wishes. I hope the day itself will be \_\_\_\_\_ (2) and happy for you. May you be showered \_\_\_\_\_ (3) health and happiness for all the years to come. I take this opportunity of \_\_\_\_\_ (4) you from the bottom of my heart for all you have done for \_\_\_\_\_ (5).

SubQuestion No : 21

Q.2  
1 Select the most appropriate option that will fill in the blank number 1.

- Ans
- 1. remember
  - 2. remembers
  - 3. remembering
  - 4. remembered

Question ID : 9895804167  
Chosen Option : --

Comprehension:

In the following passage some words have been deleted. Fill in the blanks with the help of the alternatives given.

I have just \_\_\_\_\_ (1) that it is your birthday on Saturday and so I send you my best wishes. I hope the day itself will be \_\_\_\_\_ (2) and happy for you. May you be showered \_\_\_\_\_ (3) health and happiness for all the years to come. I take this opportunity of \_\_\_\_\_ (4) you from the bottom of my heart for all you have done for \_\_\_\_\_ (5).

SubQuestion No : 22

Q.2  
2 Select the most appropriate option that will fill in the blank number 2.

- Ans
- 1. excited
  - 2. plentiful
  - 3. suitable
  - 4. peaceful

Question ID : 9895804168  
Chosen Option : --

Comprehension:



In the following passage some words have been deleted. Fill in the blanks with the help of the alternatives given.

I have just \_\_\_\_\_ (1) that it is your birthday on Saturday and so I send you my best wishes. I hope the day itself will be \_\_\_\_\_ (2) and happy for you. May you be showered \_\_\_\_\_ (3) health and happiness for all the years to come. I take this opportunity of \_\_\_\_\_ (4) you from the bottom of my heart for all you have done for \_\_\_\_\_ (5).

SubQuestion No : 23

Q.2  
3 Select the most appropriate option that will fill in the blank number 3.

- Ans
- 1. with
  - 2. by
  - 3. of
  - 4. from

Question ID : 9895804169  
Chosen Option : --

Comprehension:

In the following passage some words have been deleted. Fill in the blanks with the help of the alternatives given.

I have just \_\_\_\_\_ (1) that it is your birthday on Saturday and so I send you my best wishes. I hope the day itself will be \_\_\_\_\_ (2) and happy for you. May you be showered \_\_\_\_\_ (3) health and happiness for all the years to come. I take this opportunity of \_\_\_\_\_ (4) you from the bottom of my heart for all you have done for \_\_\_\_\_ (5).

SubQuestion No : 24

Q.2  
4 Select the most appropriate option that will fill in the blank number 4.

- Ans
- 1. wishing
  - 2. greeting
  - 3. congratulating
  - 4. thanking

Question ID : 9895804170  
Chosen Option : --

Comprehension:

In the following passage some words have been deleted. Fill in the blanks with the help of the alternatives given.

I have just \_\_\_\_\_ (1) that it is your birthday on Saturday and so I send you my best wishes. I hope the day itself will be \_\_\_\_\_ (2) and happy for you. May you be showered \_\_\_\_\_ (3) health and happiness for all the years to come. I take this opportunity of \_\_\_\_\_ (4) you from the bottom of my heart for all you have done for \_\_\_\_\_ (5).

SubQuestion No : 25

Q.2  
5 Select the most appropriate option that will fill in the blank number 5.

- Ans
- 1. me
  - 2. them
  - 3. her
  - 4. him

Question ID : 9895804171  
Chosen Option : --

Section : Hindi Language

Q.1 दिए गए वाक्य में रेखांकित खंड को प्रतिस्थापित करने के लिए सबसे उपयुक्त विकल्प का चयन करें।  
अर्जुन ने धनुष से मछली का आँख पर निशाना लगाया।

- Ans
- 1. धनुष से मछली की आँख पर
  - 2. मछली से धनुष की आँख पर
  - 3. धनुष से मछली को आँख पर
  - 4. धनुष से मछली के आँख पर

Question ID : 9895803521  
Chosen Option : 1

Q.2 दिए गए वाक्य का वह भाग ज्ञात करें जिसमें कोई त्रुटि है। सभी महिलाएँ तुम्हारी तरह हिम्मत वाला होती तो गुंडागर्दी की घटनाओं में वृद्धि न होती।

- Ans
- 1. सभी महिलाएँ तुम्हारी तरह
  - 2. हिम्मत वाला होती तो
  - 3. वृद्धि न होती।
  - 4. गुंडागर्दी की घटनाओं में

Question ID : 9895803519  
Chosen Option : 2





















